























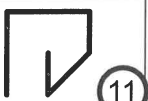

























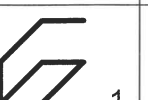

Mein Name / Datum

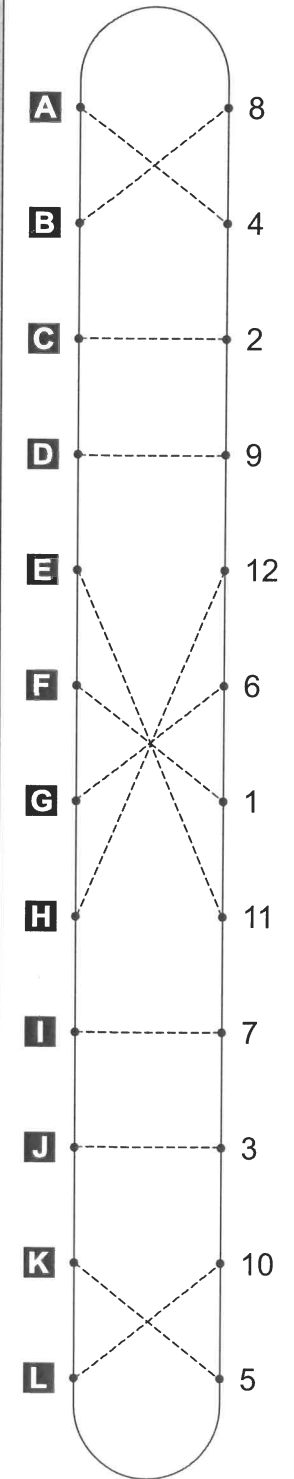
# Dreh- und Spiegelrätsel 1 (Lösung)

Suche zu jeder Aufgabe von **A** bis **L** die Figur, die nicht nur gedreht, sondern auch noch gespiegelt wurde! Kreise die Lösungszahl ein. Zeichne dann im Kontrollfeld eine gerade Linie von dem Aufgaben-Buchstaben zur Lösungszahl.

### Aufgaben

### Kontrollfeld

<b>A</b>	 9	 6	<b>B</b>	 8	 11
	 3	 4		 12	 5
<b>C</b>	 1	 2	<b>D</b>	 6	 3
	 7	 10		 9	 4
<b>E</b>	 12	 5	<b>F</b>	 7	 10
	 11	 8		 2	 1
<b>G</b>	 3	 6	<b>H</b>	 12	 5
	 4	 9		 8	 11
<b>I</b>	 10	 7	<b>J</b>	 4	 9
	 2	 1		 3	 6
<b>K</b>	 5	 8	<b>L</b>	 2	 7
	 11	 12		 1	 10



3



















































Mein Name / Datum

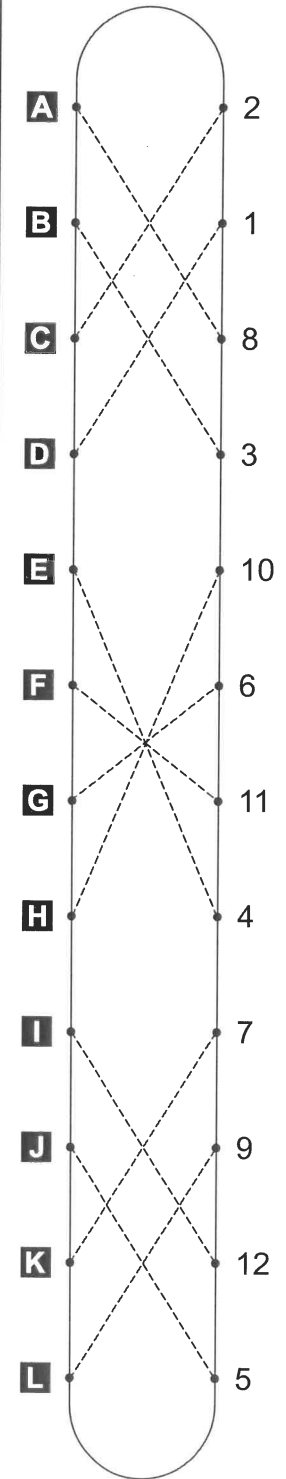
# Dreh- und Spiegelrätsel 2 (Lösung)

Suche zu jeder Aufgabe von **A** bis **L** die Figur, die nicht nur gedreht, sondern auch noch gespiegelt wurde! Kreise die Lösungszahl ein. Zeichne dann im Kontrollfeld eine gerade Linie von dem Aufgaben-Buchstaben zur Lösungszahl.

### Aufgaben

### Kontrollfeld

<b>A</b>	 1	 6	<b>B</b>	 3	 4
	 5	 8		 10	 7
<b>C</b>	 11	 2	<b>D</b>	 6	 5
	 12	 9		 1	 8
<b>E</b>	 10	 7	<b>F</b>	 12	 9
	 4	 3		 2	 11
<b>G</b>	 5	 6	<b>H</b>	 10	 7
	 8	 1		 3	 4
<b>I</b>	 9	 12	<b>J</b>	 8	 1
	 2	 11		 5	 6
<b>K</b>	 7	 3	<b>L</b>	 2	 11
	 4	 10		 12	 9





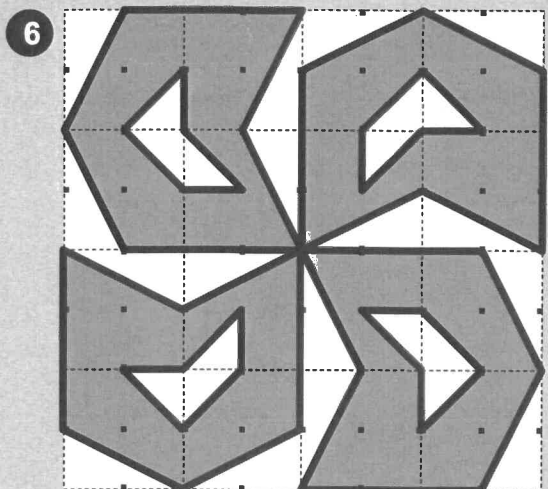
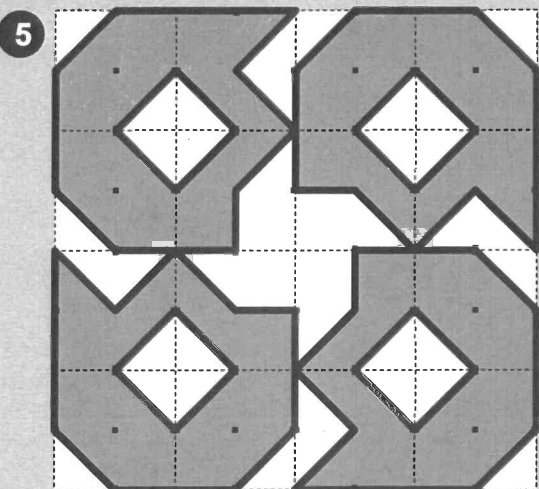
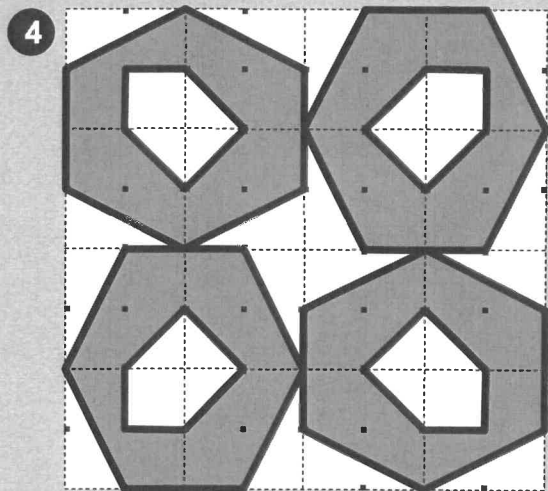
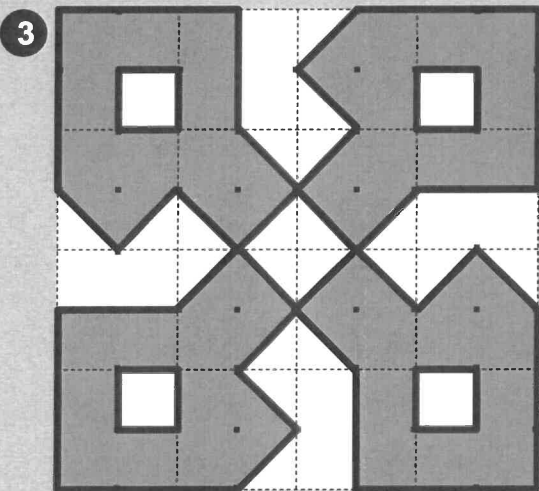
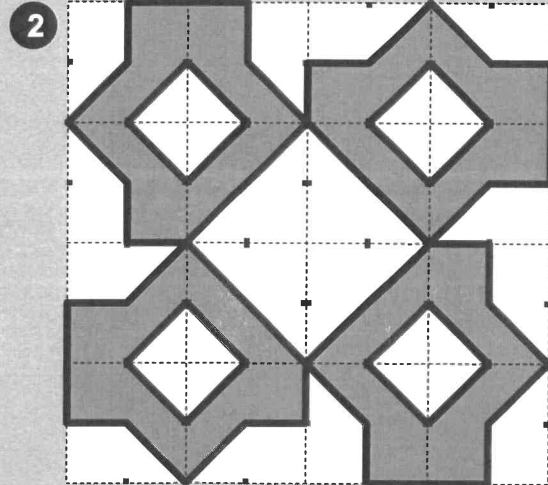
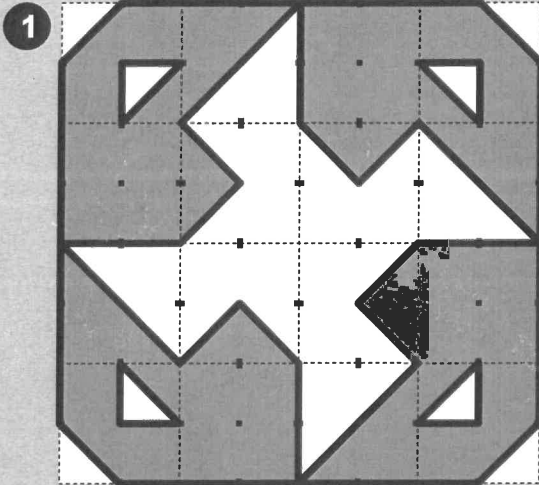

Name: \_\_\_\_\_

Klasse: \_\_\_\_\_

Datum: \_\_\_\_\_

## Muster ergänzen 1 (Lösung)

Zeichne das fehlende Objekt aus freier Hand in das drehsymmetrische Muster hinein und male dann - wenn du willst - das Muster farbig aus!





Name:

Klasse:

Datum:

## Muster ergänzen 2 (Lösung)

Zeichne das fehlende Objekt aus freier Hand in das drehsymmetrische Muster hinein und male dann - wenn du willst - das Muster farbig aus!

